

SUJET A

**Question 1**

La représentation polaire du nombre complexe  $(1 + i)^3$  est  $2\sqrt{2}e^{i3\pi/4}$  (réponse d)

car  $(1 + i) = \sqrt{2}e^{i\pi/4}$

**Question 2**

Les deux racines carrées du nombre complexe  $-1 + i\sqrt{3}$  sont  $\pm \sqrt{2}e^{i\pi/3}$  (réponse c)

car  $-1 + i\sqrt{3} = 2e^{2i\pi/3}$

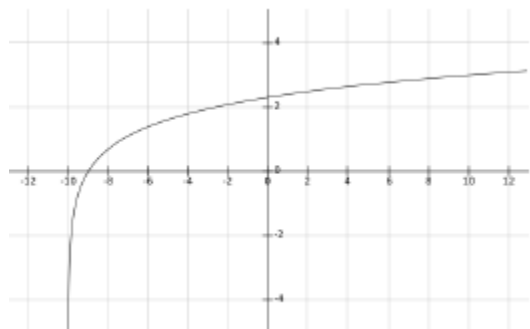
**Question 3**

Pour les fonctions  $f(x) = \frac{2x}{1+x}$  et  $g(y) = \sqrt{y+3}$ , la composée  $f \circ g$  est la fonction qui a pour expression  $\frac{2\sqrt{y+3}}{1+\sqrt{y+3}}$ . (réponse a)

**Question 4**

La réciproque de la fonction  $h(t) = \sqrt{t+3}$  est la fonction  $u \rightarrow h^{-1}(u)$  donnée par  $h^{-1}(u) = u^2 - 3$  (réponse a)

car  $\sqrt{t+3} = u \Leftrightarrow t+3 = u^2 \Leftrightarrow t = u^2 - 3$ .



**Question 5**

Le graphe de la fonction  $f(x) = \ln(x + 10)$  est :

(réponse b)

**Exercice 6**

$$\Delta = (3 - 2i)^2 - 4 \times 1 \times (5 - i) = 9 - 4 - 12i - 20 + 4i = -15 - 8i$$

On cherche  $\delta = x + iy$  tel que  $\Delta = \delta^2 = x^2 - y^2 + 2ixy$

$$\text{De plus, } |\delta^2| = x^2 + y^2 = |\Delta| = \sqrt{(-15)^2 + (-8)^2} = \sqrt{225 + 64} = \sqrt{289} = 17$$

On doit donc résoudre :

$$\begin{cases} x^2 + y^2 = 17 \\ x^2 - y^2 = -15 \\ 2xy = -8 \end{cases} \Leftrightarrow \begin{cases} 2x^2 = 2 \\ 2y^2 = 32 \\ xy = -4 \end{cases} \Leftrightarrow \begin{cases} x^2 = 1 \\ y^2 = 16 \\ xy = -4 \end{cases}$$

On a donc  $\delta = 1 - 4i$  ou  $\delta = -1 + 4i$

Les solutions de l'équation sont donc :  $z_1 = \frac{3 - 2i + 1 - 4i}{2} = 2 - 3i$  et  $z_2 = \frac{3 - 2i - 1 + 4i}{2} = 1 + i$

SUJET B

**Question 1**

La représentation polaire du nombre complexe  $(\sqrt{3} + i)^3$  est  $4e^{i\pi/3}$  (réponse c)

car  $(\sqrt{3} + i) = 2e^{i\pi/6}$

**Question 2**

Les deux racines carrées du nombre complexe  $\sqrt{3} - i$  sont  $\pm \sqrt{2}e^{-i\pi/12}$  (réponse b)

car  $\sqrt{3} - i = 2e^{-i\pi/6}$

**Question 3**

Pour les fonctions  $f(x) = \frac{x}{1+2x}$  et  $g(y) = \sin(y + 2)$ , la composée  $f \circ g$  est la fonction qui a pour expression  $\frac{\sin(y+2)}{1+2\sin(y+2)}$ . (réponse c)

**Question 4**

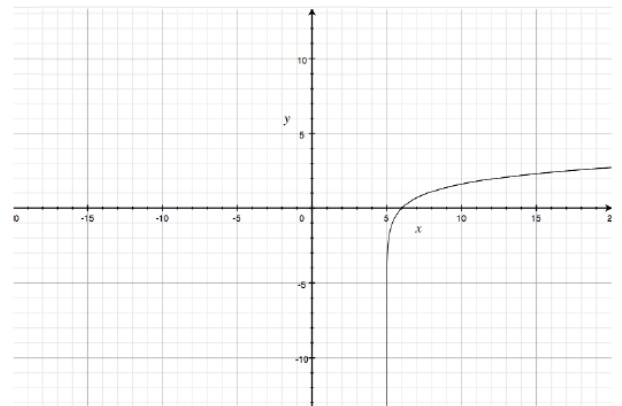
La réciproque de la fonction  $h(t) = \sqrt[3]{t + 2}$  est la fonction  $u \rightarrow h^{-1}(u)$  donnée par  $h^{-1}(u) = u^3 - 2$  (réponse a)

car  $\sqrt[3]{t + 2} = u \Leftrightarrow t + 2 = u^3 \Leftrightarrow t = u^3 - 2$ .

**Question 5**

Le graphe de la fonction  $f(x) = \ln(x - 5)$  est :

(réponse d)



**Exercice 6**

$\Delta = (3 + 4i)^2 - 4 \times 1 \times (-1 + 5i) = 9 - 16 + 24i + 4 - 20i = -3 + 4i$

On cherche  $\delta = x + iy$  tel que  $\Delta = \delta^2 = x^2 - y^2 + 2ixy$

De plus,  $|\delta^2| = x^2 + y^2 = |\Delta| = \sqrt{(-3)^2 + 4^2} = \sqrt{9 + 16} = \sqrt{25} = 5$

On doit donc résoudre :

$$\begin{cases} x^2 + y^2 = 5 \\ x^2 - y^2 = -3 \\ 2xy = 4 \end{cases} \Leftrightarrow \begin{cases} 2x^2 = 2 \\ 2y^2 = 8 \\ xy = 2 \end{cases} \Leftrightarrow \begin{cases} x^2 = 1 \\ y^2 = 4 \\ xy = 2 \end{cases}$$

On a donc  $\delta = 1 + 2i$  ou  $\delta = -1 - 2i$

Les solutions de l'équation sont donc :  $z_1 = \frac{3 + 4i + 1 + 2i}{2} = 2 + 3i$  et  $z_2 = \frac{3 + 4i - 1 - 2i}{2} = 1 + i$

SUJET C

Question 1

La représentation polaire du nombre complexe  $(1 - i\sqrt{3})^4$  est  $16e^{-i4\pi/3}$  (réponse c)

car  $1 - i\sqrt{3} = 2e^{-i\pi/3}$

Question 2

Les deux racines carrées du nombre complexe  $\frac{4}{\sqrt{2}} + i\frac{4}{\sqrt{2}}$  sont  $\pm 2e^{i\pi/8}$  (réponse b)

car  $\frac{4}{\sqrt{2}} + i\frac{4}{\sqrt{2}} = 4e^{i\pi/4}$

Question 3

Pour les fonctions  $f(y) = e^{y-1}$  et  $g(x) = \frac{x^2}{2x-1}$ , la composée  $f \circ g$  est la fonction qui a pour expression  $e^{\frac{x^2}{2x-1}-1} = e^{\frac{(x-1)^2}{2x-1}}$ . (réponse a)

Question 4

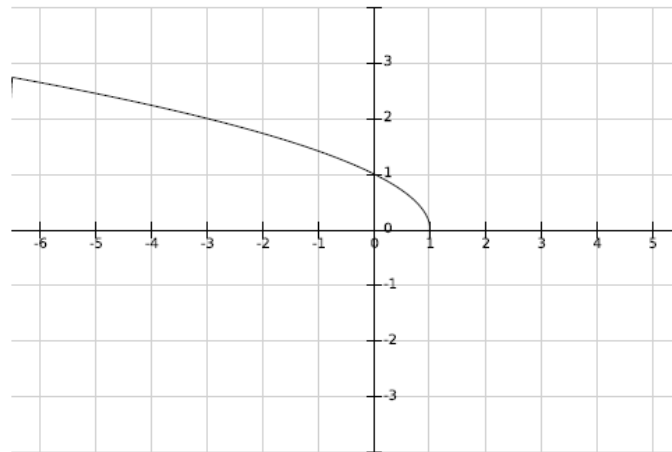
La réciproque de la fonction  $h(t) = \ln(1 - 2t)$  est la fonction  $u \rightarrow h^{-1}(u)$  donnée par  $h^{-1}(u) = u^2 - 3$  (réponse a)

car  $\ln(1 - 2t) = u \Leftrightarrow 1 - 2t = e^u \Leftrightarrow t = \frac{e^u - 1}{-2} = \frac{1}{2}(1 - e^u)$ .

Question 5

Le graphe de la fonction  $f(x) = \sqrt{1-x}$  est :

(réponse d)



Exercice 6

$\Delta = (1+i)^2 - 4 \times 1 \times i = 1 - 1 + 2i - 4i = -2i$

On cherche  $\delta = x + iy$  tel que  $\Delta = \delta^2 = x^2 - y^2 + 2ixy$

De plus,  $|\delta^2| = x^2 + y^2 = |\Delta| = 2$

On doit donc résoudre :

$$\begin{cases} x^2 + y^2 = 2 \\ x^2 - y^2 = 0 \\ 2xy = -2 \end{cases} \Leftrightarrow \begin{cases} 2x^2 = 2 \\ 2y^2 = 2 \\ xy = -1 \end{cases} \Leftrightarrow \begin{cases} x^2 = 1 \\ y^2 = 1 \\ xy = -1 \end{cases}$$

On a donc  $\delta = 1 - i$  ou  $\delta = -1 + i$

Les solutions de l'équation sont donc :  $z_1 = \frac{1+i+1-i}{2} = 1$  et  $z_2 = \frac{1+i-1+i}{2} = i$