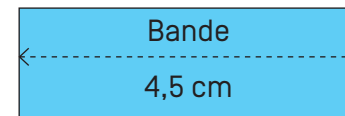


Construire un segment 2

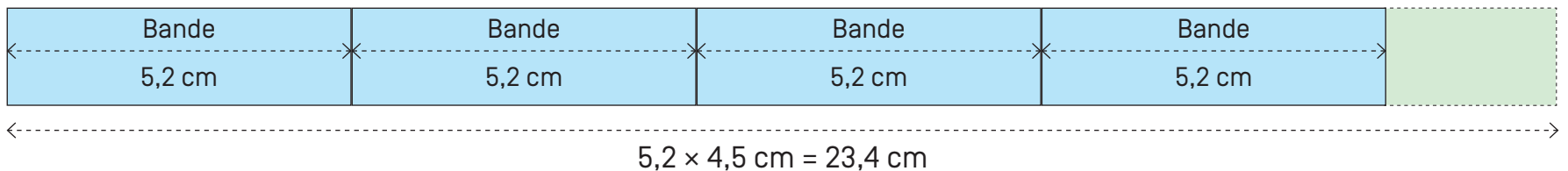
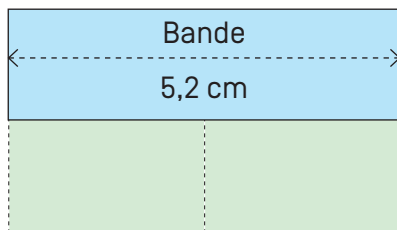
Utilise la bande de ton choix pour construire un segment de longueur $5,2 \times 4,5$ cm.

La règle graduée est interdite.



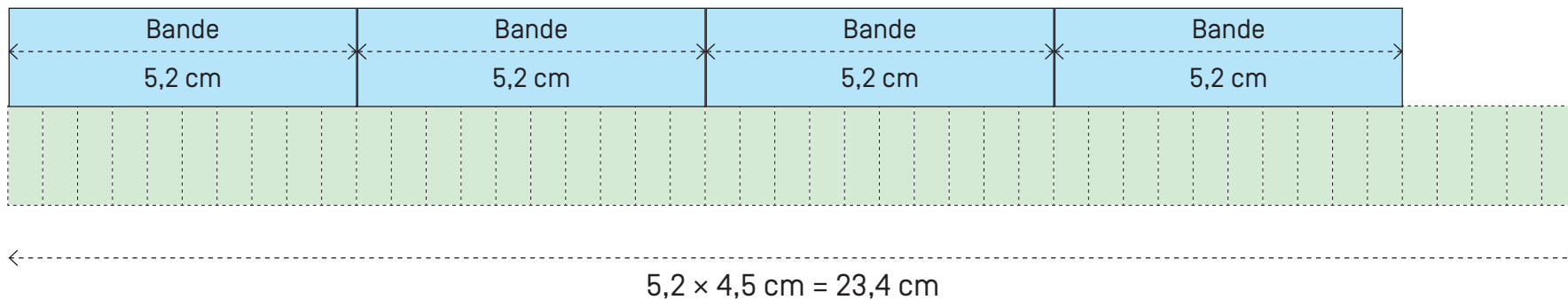
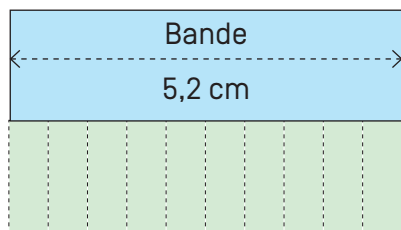
Utilise la bande de ton choix pour construire un segment de longueur $5,2 \times 4,5$ cm.

La règle graduée est interdite.



Utilise la bande de ton choix pour construire un segment de longueur $5,2 \times 4,5$ cm.

La règle graduée est interdite.



Utilise la bande de ton choix pour construire un segment de longueur $5,2 \times 4,5$ cm.

La règle graduée est interdite.

